

Takt, Notenwerte und Pausen

Tonlängen / Notenwerte beim 4/4 Takt:

1. Setze folgende Wörter ein: Taktstriche, Takte

Melodien/Lieder werden durch _____ in _____ eingeteilt.

2. Zeichne...

a) eine ganze Note

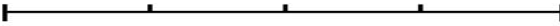
b) eine halbe Note

c) eine Viertelnote


d) vier Achtelnoten

3. Man kann auch sagen, die Noten sitzen auf Notenbänkchen. Jedes Bänkchen beim 4/4-Takt hat ____ Plätze (Klatscher):

Setze die geforderten Noten auf den richtigen Platz, so dass es immer eine ganze Note ergibt:

a) eine ganze Note: 

b) ____ halbe Noten: 

c) ____ Viertelnoten: 

d) ____ Achtelnoten: 

4. Wie viele Schläge dauert ... → unterstreiche, auf welchen Schlag du klatschst, setze die anderen Zahlen in Klammern. Beispiel: (1) 2 (3 4) 1) 2 (3 4)

a) eine ganze Note? ____ Schläge → 1 2 3 4 1 2 3 4


b) eine halbe Note? ____ Schläge → 1 2 3 4 1 2 3 4


c) eine Viertelnote? ____ Schlag → 1 2 3 4 1 2 3 4

d) Wie zählst und klatschst du bei einer Achtelnote? _____

Pausenzeichen

5. Jedem Notenwert entspricht ein Pausenwert. Zeichne die richtige Note und die passende Pause ein:

a) Ganze Note → ganze Pause → 

b) Halbe Note → halbe Pause → 

c) Viertelnote → Viertelpause → 

d) Achtelnote → Achtelpause → 